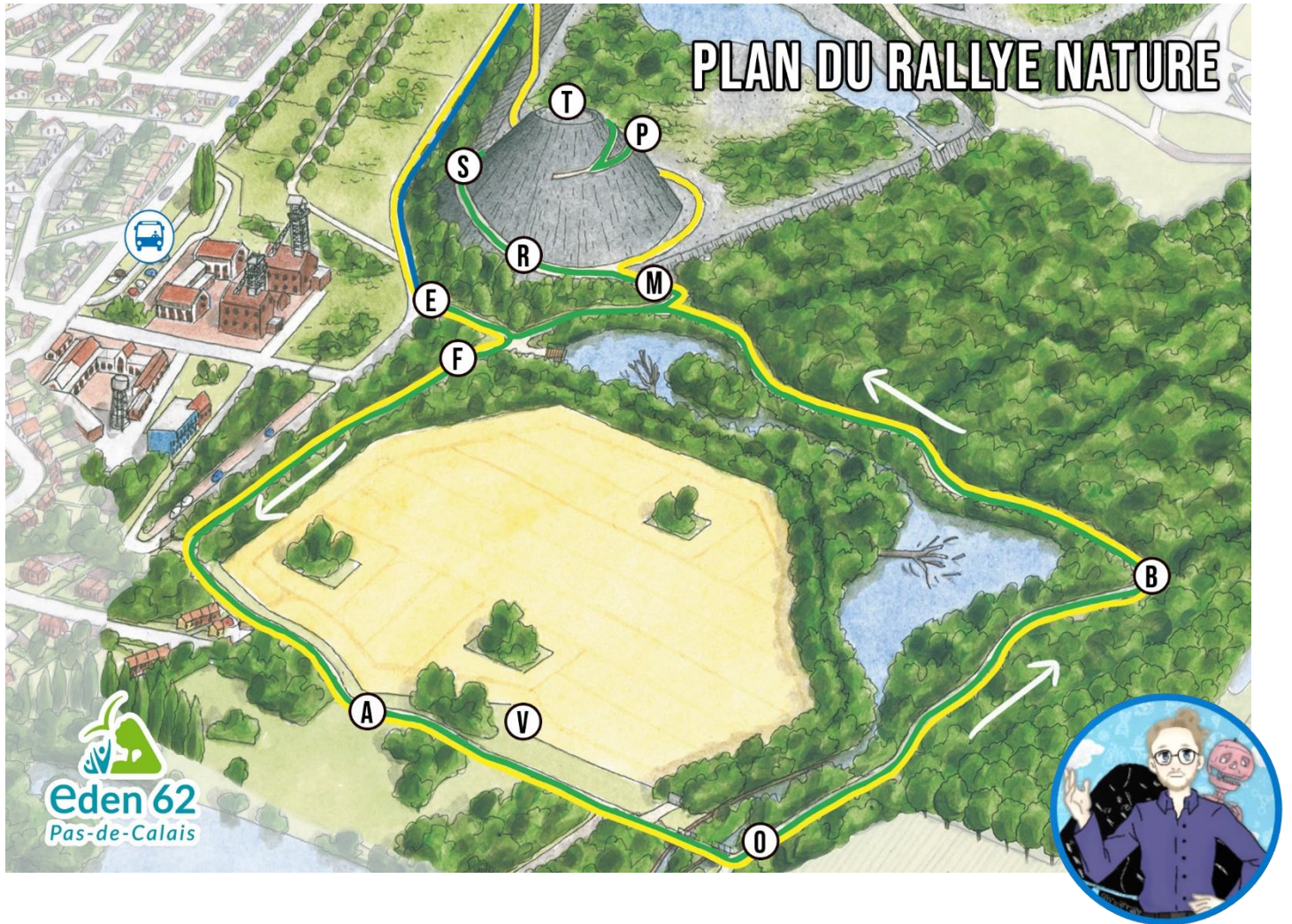


# RALLYE NATURE « SITE DU 9-9BIS »

SORTIE SVT - EDEN62 - 12 AVRIL 2024

CETTE FEUILLE EST À COMPLÉTER DURANT LE RALLYE NATURE  
ELLE SERA RAMASSÉE PAR M. PACHURKA EN FIN DE SÉANCE



MEMBRES DE L'ÉQUIPE DE 3 OU 4 ÉLÈVES :

---

---

---

---

# « A » COMME ARBRE TOTEM

Le bois mort est un environnement riche en biodiversité.

Il est essentiel de laisser ces lieux de vie dans le bois.




A l'aide du panneau et du texte ci-dessous, retrouvez les noms des espèces manquantes et représentez le réseau alimentaire sur le schéma.

« Le bois mort peut être à la base de la chaîne alimentaire. Il est mangé par le Cloporte, le Perce-oreille, la Lule et bien d'autres espèces xylophages. Ces xylophages sont eux même mangés par le Pic épeiche ou les Oreillards roux. Le Mulot s'en délecte aussi, mais il est lui-même la proie de la Chouette hulotte la nuit tombée ! »

## « B » COMME BUNKER

Vestige des guerres mondiales, ce bunker abrite maintenant autre chose que des soldats.

Dessine l'animal visible sur le bunker et nomme l'un de ses locataires.



Nom : \_\_\_\_\_

## « E » COMME EDEN62

Vous voici devant l'entrée du bois des Hautois, un site géré par Eden62. Après avoir écouté attentivement les explications de votre guide nature, Martha, répondez à ces questions :

1. Quel est le site « Eden62 » le plus proche de chez vous ? \_\_\_\_\_
2. Comment se nomme ces trois espèces présentes sur le site ?



## « F » COMME FLEUR

Durant votre balade dans le bois, vous pouvez à tout moment croiser des fleurs.

A vous d'entourer les espèces que vous avez rencontrées.



**Renoncule ficaire**  
(fleur jaune)



**Pissenlit dent-de-lion**  
(fleur jaune)



**Jacynthe des bois**  
(fleur bleue)



**Herbe à Robert**  
(fleur rose)



**Anémone ficaire**  
(fleur blanche)



**Primevère officinale**  
(fleur jaune)

## « M » COMME MARCHÉ

Tu arrives maintenant sur le terril 110, il a été aménagé par Eden62 pour éviter tout accident et protéger les êtres vivants fragiles présents sur le site. Le terril s'érode également.

Grimpez au sommet des escaliers aménagés et comptez le nombre de marches.

Nombre de marches : \_\_\_\_\_

# « O » COMME OISEAUX

Vous êtes à mi-parcours et vous avez dû entendre de nombreux oiseaux dans ce bois. Maintenant, il faut les trouver ! Servez-vous de la fiche d'identification des oiseaux pour retrouver les 8 espèces cachées le long du chemin.

1 : \_\_\_\_\_

2 : \_\_\_\_\_

3 : \_\_\_\_\_

4 : \_\_\_\_\_

5 : \_\_\_\_\_

6 : \_\_\_\_\_

7 : \_\_\_\_\_

8 : \_\_\_\_\_

# « P » COMME PAYSAGE

Le paysage du bassin minier a bien changé en 200 ans. Observez et écoutez, vous remarquerez que l'humain a modifié son environnement. Complétez ce document à l'aide des explications données.

Plateforme DELTA3 avec transport de marchandise par : \_\_\_\_\_

Le terril Saint \_\_\_\_\_

Bassin minier aujourd'hui

Bassin minier par Jules Breton en 1850

# « R » COMME ROCHE

Le terril est constitué de roches « stériles », des déchets miniers !

Retrouvez le nom et la description des roches que tu as autour de toi.

A--	B---	C----	D---	E.	F----	G---	H---	I..	J.---	K---	L.---	M--
N--	O---	P.---	Q----	R---	S---	T-	U--	V---	W---	X---	Y----	Z----



.....

\_\_\_\_\_

Noir, luisant mais non brillant, c'est une roche que l'on dit friable. Constituée de feuillets posés sur uns sur les autres. Les mineurs l'appelaient (ter' eud' fosse ».



.....

\_\_\_\_\_

Résidu de la combustion de diverses matières organiques et minérales



.....

\_\_\_\_\_

Gris-Marron-Noir avec des petits points brillants à la surface, c'est une roche très dure que les mineurs appelaient « pierre à querelle ».

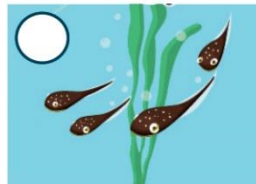
# « S » COMME SCHLAMM

Devant vous, les anciens bacs à schlamm où on y déposait \_\_\_\_\_.

Ils accueillent maintenant le nid d'un rapace. Petit indice, étant un carnivore, son bec est adapté à son régime alimentaire. Qui est-il ? \_\_\_\_\_.

# « T » COMME TERRIL

Une surprise t'attend au sommet de ce terril ! Non, ce n'est pas un cratère de lave, mais une mare aménagée par Eden62 ! Un paradis pour les amphibiens, quand elle n'est pas asséchée l'hiver !



Remettre dans l'ordre les 5 étapes de développement de cet amphibien.

Maintenant observez autour de vous, la vue est magnifique, des boussoles sont à votre disposition !



**Vers le Nord-est**, vous verrez les plus hautes tours de la région : Lille !

**Vers l'est**, vous verrez deux chevalements : Celui de Evin Malmaison et celui de Roost Warendin (bleu).

Mais... **Dans quelle direction se trouve Mazingarbe ?** \_\_\_\_\_

Enfin, contemplez le site minier du 9-9bis et ses deux chevalements. Regardez surtout la cité-jardin (où vivaient les mineurs de la fosse) située juste derrière. Que remarquez-vous ?

---

---

---

*Indice : Regardez leur organisation par rapport aux chevalements*

## « V » COMME VACHE

Coloriez le pays dont sont originaires ces Vaches « dexter »

